







Khởi động

CHIM ĐƯA THƯ

PLAY





Win!

20

21

65

87



Bài 33: Luyện tập chung

Tiết 1

1

Tính

$20 + 5$

=



$36 + 1$

=




$57 - 40$

=



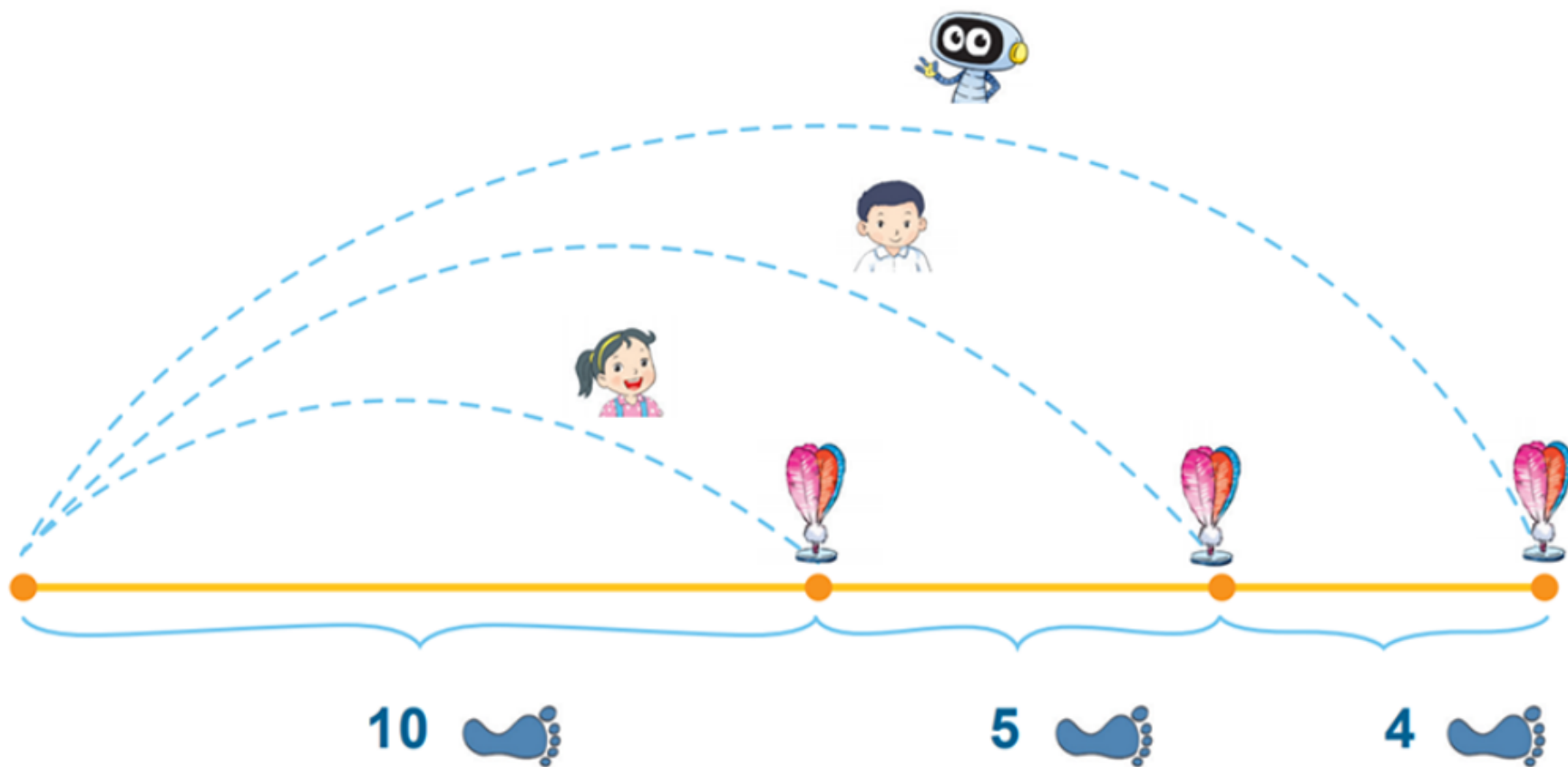
$74 - 24$

=



2

Mai, Việt và Rô-bốt chơi đá cầu. Em hãy tìm số bước chân thích hợp.



Mai: 10 bước

Việt: $10 + 5 = 15$ bước

Rô bốt: $15 + 4 = 19$ bước

3

Chú ếch nào được ăn hoa mướp?



Tớ đi theo các ô có số bằng $20 + 40$.



Tớ đi theo các ô có số bé hơn 60.





4

Anh Khoai phải sắp xếp các đốt tre thành phép tính đúng. Nhưng do vội quá nên anh xếp nhầm hai đốt tre. Em hãy xếp lại giúp anh Khoai nhé!



$$\begin{array}{r} 98 \\ - 73 \\ \hline 25 \end{array}$$



**Tạm biệt và
hẹn gặp lại**